

دکتر تقی عدالتی: دانشیار دانشگاه فردوسی مشهد - بنیاد پژوهش‌های اسلامی
حسن فرخی - دبیر آموزش و پرورش مشهد - بنیاد پژوهش‌های اسلامی

مقدمه‌ای بر شناخت نجوم در جغرافیای ریاضی

(۷)

AN INTRODUCTION TO ASTRONOMY IN MATHEMATICAL GEOGRAPHY (7)

By: T. Edalati (ph. D.)

University of Mashhad-Islamic Research Foundation

H. Farrokhi.

ministry of Education, Mashhad office-Islamic Reserach Foundation.

Determination of the direction and Ghebleh.

There are ten methods for deter mination of the dicrection by using the time of rising, or sdetting of the sun is not accurate, beacuse , the sun in its apparent motion along the year changes its position, for the amount, of, $46^{\circ} / 54^{\circ}$ for the polar orbits and then the places of the rising and setting the sun will change. only in the equinoxes the places of the rising and setting the sun are exact on the east and west.

The best wey for determination of the Qebleh will be on 7 Khordad and 25 tir, because in these times latitude of the Mecca will be the same as declination of the sun. of which we can say that in these times it will be on zenith in the meridian of mecca.

جهت یابی و قبله یابی

قبل از پرداختن به روش‌های مختلف تعیین قبله، لازم است، موضوع جهت یابی بررسی شود تا با کمک آن بتوانیم جهت انحراف قبله هر محل را نیز تعیین کنیم. در مقطع تحصیلی ابتدایی، برای جهت یابی، چنین آموزش می‌دادند که اگر دست‌های خود را در امتداد شانه‌ها به دو طرف باز کنیم و به گونه‌ای بایستیم که دست راست ما به طرف مشرق (محل طلوع خورشید) و دست چپ ما به طرف مغرب (محل غروب خورشید) باشد، در این صورت روبه‌روی ما جهت شمال و پشت سرما، جهت جنوب را نشان می‌دهد. این روش، هر چند

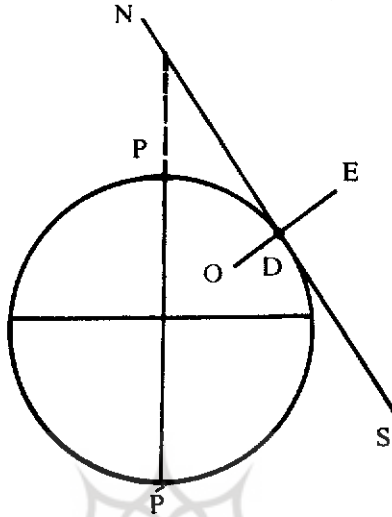
روش ساده‌ای در تعیین جهات اصلی^۱ یا جهات چهارگانه است ولی به علت انحراف محور زمین از نظر علمی اشکال دارد. زیرا خورشید در حرکت ظاهری خود در طول سال، برای نقاط واقع در حدفاصل مدارهای قطبی، به مقدار ۵۴ و ۴۶ تغییر موضع داده و لذا محل طلوع و غروب آن تغییر می‌کند و فقط در اعتدالین، محل طلوع و غروب خورشید دقیقاً در مشرق و مغرب واقعی ناظر قرار می‌گیرد و در سایر مواقع، محل طلوع و غروب خورشید از مشرق و مغرب واقعی ناظر فاصله دارد. به این ترتیب تعیین جهات از روی طلوع و غروب خورشید، دقیق نخواهد بود.

روش فوق بر این اساس استوار است که افق هر نقطه مدار آن محل را در دو نقطه و خط نصف النهار نیز در دو نقطه دیگر قطع می‌کند. برای دو نقطه اول، نقطه‌ای که در سمت طلوع خورشید قرار دارد، مشرق (خاور) و نقطه مقابل آن، مغرب (باختر) نامیده می‌شود. در دو نقطه دوم، محلی که در طرف چپ شخصی که روبروی مشرق ایستاده است، شمال، و نقطه دیگر را جنوب گویند.

در تعیین جهات به طریق علمی دو مبدأ زیر مورد توجه قرار می‌گیرد، اول امتداد محور زمین که از کنار ستاره قطبی می‌گذرد و در تمام طول سال ثابت می‌باشد. دوم، افق محلی که امتداد ثابتی را باید داشته باشد. در شکل (۱) برای تعیین جهت‌های نقطه (D) یا ناظر، ابتدا افق آن را رسم کرده و امتداد می‌دهیم تا محور زمین را در نقطه (N) قطع کند، سپس دو نقطه (D و N) را به هم وصل می‌کنیم تا جهات (S و N) مشخص شوند. خط عمود (OE) بر نقطه (D)، جهات (E و W) را نشان می‌دهد (شکل ۱).

روش‌های جهت‌یابی:

۱- راستای شمال و جنوب: شمال و جنوب حقیقی عبارت است از امتداد دو طرف محور زمین. محور چرخشی زمین، کره زمین را در دو نقطه به نام قطبهای شمال و جنوب جغرافیایی، قطع می‌کند. البته نقاطی بر روی سطح زمین و در حوالی قطبها، در زمانهای متفاوت با قطبهای چرخشی منطبق می‌شوند ولی مقدار تغییر محل قطبین جغرافیایی بسیار اندک است.



شکل شماره ۱ - تعیین جهات اصلی نقطه (D)

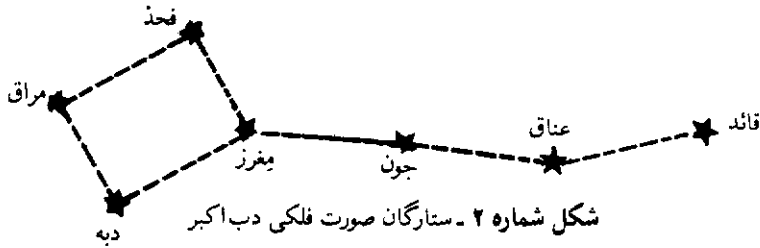
۲ - جهت یابی از طریق دایره هندی: در قدیم نصف النهار یک محل را با مشخص کردن دو ارتفاع مساوی خورشید در صبح و بعد از ظهر تعیین می‌کردند^۴. این روش هنوز تا حدودی توسط منجمین مورد استفاده است و نیازی به رصد شبانه ندارد. در این روش باید از تغییرات میل خورشید در طول روز صرف نظر کرد البته به علت طولانی بودن مدت آزمایش، میزان شکست نور در اتمسفر یکسان نبوده و در نتیجه، در این روش، احتمال خطا وجود دارد.

۳ - جهت یابی در شب: برای جهت یابی در شب، می‌توان از ستاره قطبی استفاده کرد. این ستاره به فاصله یک درجه در امتداد محور عالم و به طرف شمال قرار دارد. برای پیدا کردن ستاره قطبی باید از صورت فلکی دب اکبر^۳ (خرس بزرگ) یا آبگردان بزرگ^۵ استفاده کرد که در موقع غروب در ۶ ماه اول سال در نیمکره شمالی، به شرط صاف بودن هوا، قابل رؤیت است. چهار ستاره^۶ دُبه^۵ میراق^۶، فخذ^۷، میفرز^۸ به شکل تقریبی دوزنقه می‌باشد و ستارگان قانده^۹، عناق^{۱۰} و جون^{۱۱}، ستارگان دسته دب اکبر را تشکیل می‌دهند (شکل ۲).

۲ - ماشاء... احیایی، کاربرد علوم در قله یابی، انتشارات امیرکبیر، تهران ۱۳۶۷

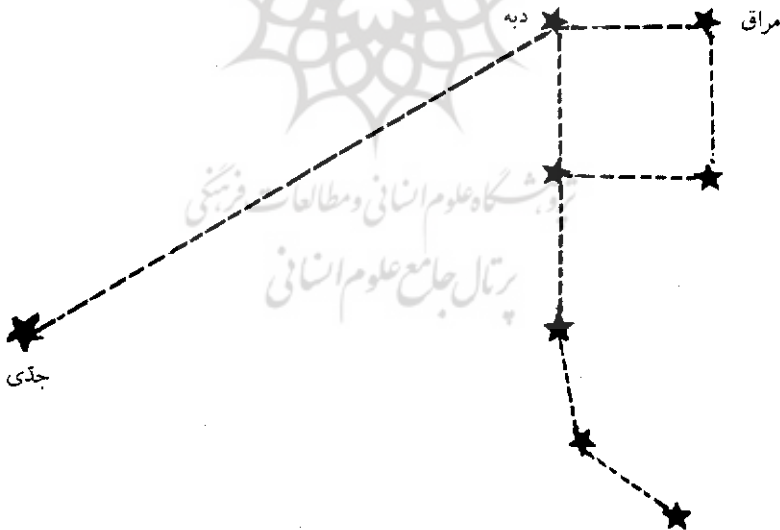
3- Ursa Major. 4- Bigdipper. 5- Dubhe. 6- Merak.

7- Phecde 8- Megrez 9- Alkaid. 10- Mizar. 11- Alioth

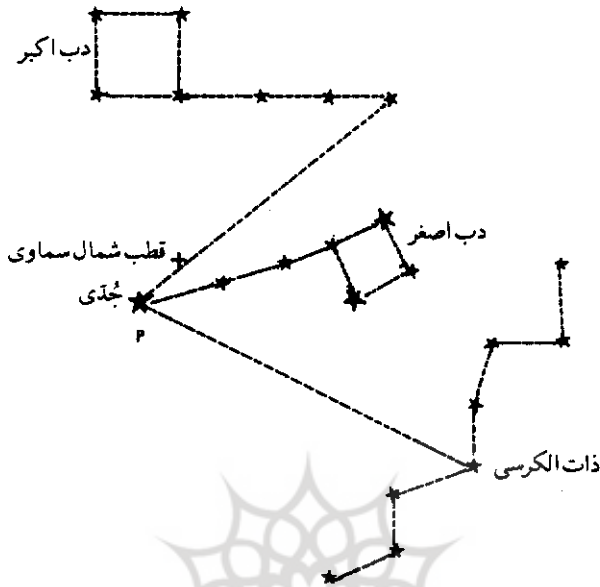


از طریق صورت فلکی دب اصغر^{۱۲} (خرس کوچک) و یا آبگردان کوچک^{۱۳} می‌توان، معروفترین و پرنورترین ستاره این صورت فلکی، ستاره قطبی^{۱۴} یا جدی را پیدا کرد. (شکل ۳)

در شکل شماره ۳ - فاصله زاویه‌ای ستارگان دبه و مراق حدود ۵۵ درجه و دبه تا جدی حدود ۲۹ درجه می‌باشد لذا اگر فاصله دبه و مراق که به نام ستارگان قراولان^{۱۵} معروفند را، ۶ برابر کنیم به ستاره قطبی (جدی) می‌رسیم.



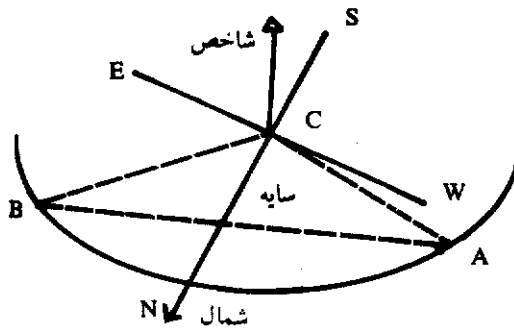
شکل شماره ۳ - ستارگان صورت فلکی دب اصغر



شکل شماره ۴ - ستارگان صورت فلکی ذات الکرسی

به جز صورت فلکی فوق، سه صورت فلکی ذات الکرسی^{۱۶}، تینین^{۱۷} (اژدها) و قیفاوس^{۱۸} در عرضهای ۴ شمالی قابل رؤیتند که می توان از طریق آنها به ستاره قطبی رسید. از ذات الکرسی در نیمه دوم سال می توان برای پیدا کردن جهت شمال استفاده کرد. این صورت فلکی به شکل M یا W می باشد (شکل شماره ۴)

۴ - روش ابوریحان بیرونی: با نصب یک میله عمودی به عنوان شاخص و در نظر گرفتن سایه آن در طول روز، جهات چهارگانه به شرح زیر مشخص می شوند. به مرکز شاخص و به شعاع اختیاری، قوسی رسم می کنیم و محل سایه شاخص را در قبل از ظهر (مثلاً ساعت ۹ صبح) معین کنیم (A)، سپس در بعد از ظهر که سایه شاخص به نیمدایره ترسیم شده رسید، آن را (B) می نامیم و از A به B وصل می کنیم، اگر در مثلث متساوی الساقین (ABC)، عمود منصف وتر (AB) که نیمساز زاویه می باشد، رسم شود و از راستای آن، نقطه (C) عبور کند، جهت دقیق شمال و جنوب را نشان می دهد، به این ترتیب، جهت سایه، جهت

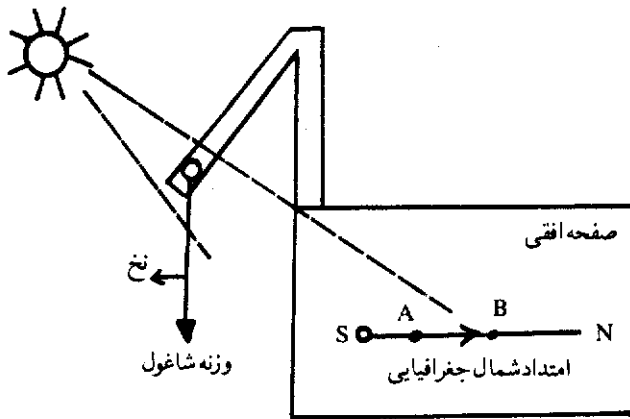


شکل شماره ۵ - جهت یابی به وسیله شاخص

شمال و جهت خلاف سایه، جهت جنوب است. بارسم خطی عمود بر آن، می‌توان جهت شرق و غرب را مشخص کرد (شکل شماره ۵)

۵ - روش استفاده از ظهر خورشیدی: ظهر شرعی به زمانی اطلاق می‌شود که خورشید بر فراز نصف النهار محل قرار گیرد در لحظه‌ای که ظهر خورشیدی است، ساعت رسمی، لزوماً ساعت ۱۲ را نشان نمی‌دهد. در زمانی که خورشید بر فراز نصف النهار محل قرار می‌گیرد، امتداد سایه هر میله قائم و یا سایه نخ یک شاخص، امتداد شمال و جنوب جغرافیایی محل خواهد بود. لذا ابتدا باید زمان ظهر خورشیدی به وقت رسمی را محاسبه کرد و سپس طبق شکل ۶، صفحه‌ای کاملاً افقی تهیه کرده و شاغولی را توسط پایه‌ای در کنار آن قرار می‌دهیم. برای آن که شاغول کاملاً بی‌حرکت باشد، وزنه آن باید سنگین باشد تا نوسانات آن زودتر گرفته شود. بعد از میزان کردن ساعت خود با وقت رسمی کشور و چند دقیقه قبل از ظهر خورشیدی محاسبه شده (به وقت رسمی) در کنار شاغول می‌ایستیم و دقیقاً در لحظه ظهر خورشیدی، امتداد سایه نخ شاغول بر روی صفحه را مشخص کرده، و پس از تعیین دو نقطه A و B بر روی سایه شاغول، آن دو نقطه را به یکدیگر وصل می‌کنیم، به این ترتیب، امتداد سایه نخ شاغول، امتداد شمال و جنوب جغرافیایی محل را نشان می‌دهد (شکل شماره ۶)

۶ - روش استفاده از زاویه سمت خورشید: در صورت عدم امکان استفاده از روش ظهر خورشید، می‌توان با محاسبه زاویه سمت^{۱۹} خورشید، امتداد شمال و جنوب جغرافیایی محل



شکل شماره ۶ - روش ظهر خورشیدی

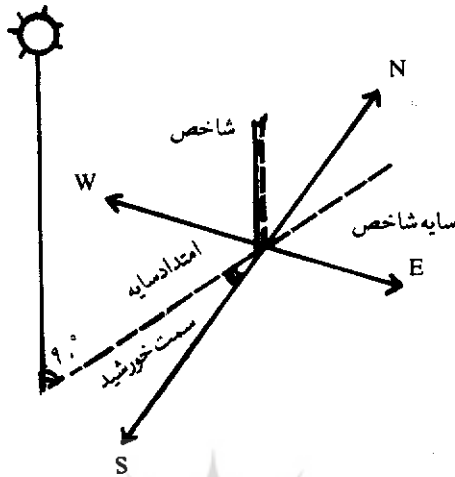
را تعیین کرد. خطی که ناظر را به خورشید متصل می‌کند، زاویه‌ای با امتداد جنوب جغرافیایی می‌سازد، که سمت خورشید گویند. این زاویه به طرف شرق یا غرب اندازه‌گیری می‌شود. سمت خورشید را برای هر ساعتی از روز به کمک فرمولهای زیر، می‌توان به دست آورد:

$$\tan A = \frac{\tanh \sin N}{\sin(\varphi - N)} \quad \text{و} \quad \tan N = \frac{\tan \delta}{\cosh}$$

در این فرمول‌ها: h = زاویه ساعتی خورشید، φ = عرض جغرافیایی ناظر، A = سمت خورشید بر حسب درجه، δ = زاویه میل خورشید به درجه

بر اساس شکل شماره ۷ - دقیقاً در لحظه معین شده، از امتداد سایه یک شاخص عمودی بر صفحه افقی، زاویه سمت را با استفاده از جدول شماره ۱، می‌توان امتداد شمال و جنوب جغرافیایی را به دست آورد. لازم به تذکر است که موضوع شکست نور در جو، تأثیری در این روش ندارد.

۷ - جهت یابی به وسیله ماه: ماه در اثر انعکاس نور خورشید می‌درخشد، لذا به کمک قسمت روشن ماه می‌توان جهت تابش نور خورشید را معلوم کرد. اندکی بعد از ماه نو، باریکه‌ی روشنی از ماه نوبعد از غروب آفتاب در غرب افق دیده می‌شود که بدان هلال ماه نو گویند و بتدریج بر پهنای قسمت روشن افزوده می‌شود. از مرحله‌ی ماه نو تا بدر یعنی در نیمه



شکل شماره ۷- روش استفاده از زاویه سمت خورشید

جدول شماره ۱- زاویه ساعتی خورشیدی از ۴ صبح تا ۸ بعد از ظهر

زاویه ساعت خورشیدی به درجه		وقت ساعت خورشیدی بعد از ظهر		وقت ساعت خورشیدی قبل از ظهر		زاویه ساعت خورشیدی به درجه		وقت ساعت خورشیدی بعد از ظهر		وقت ساعت خورشیدی قبل از ظهر	
درجه	دقیقه	ساعت	دقیقه	ساعت	دقیقه	درجه	دقیقه	ساعت	دقیقه	ساعت	دقیقه
۶۷	۳۰	۱۶	۳۰	۷	۳۰	۰	۰	۱۲	۰	۱۲	۰
۷۵	۰	۱۷	۰	۷	۰	۷	۳۰	۱۲	۳۰	۱۱	۳۰
۸۲	۳۰	۱۷	۳۰	۶	۳۰	۱۵	۰	۱۳	۰	۱۱	۰
۹۰	۰	۱۸	۰	۶	۰	۲۲	۳۰	۱۳	۳۰	۱۰	۳۰
۹۷	۳۰	۱۸	۳۰	۵	۳۰	۳۰	۰	۱۴	۰	۱۰	۰
۱۰۵	۰	۱۹	۰	۵	۰	۳۷	۳۰	۱۴	۳۰	۹	۳۰
۱۱۲	۳۰	۱۹	۳۰	۴	۳۰	۴۵	۰	۱۵	۰	۹	۰
۱۲۰	۰	۲۰	۰	۴	۰	۵۲	۳۰	۱۵	۳۰	۸	۳۰
						۶۰	۰	۱۶	۰	۸	۰

اول ماه، قوس روشن ماه روبه مغرب است و لذا جهت غرب را می توان از روی ماه تشخیص داد. در نیمه دوم ماه، قوس روشن ماه روبه شرق دارد و می توان جهت شرق را پیدا کرد. این روش در نیمکره جنوبی که ستاره روشنی در محل قطب جنوب سماوی وجود ندارد، قابل استفاده است.

۸- روش استفاده از عبور خورشید از سطح نصف النهار اصلی^{۲۰}: سطح نصف النهار اصلی، دایره عظیمه ای است که صفحه آن بر صفحه نصف النهار سماوی عمود است و از نقاط سمت الرأس، سمت القدم، مغرب و مشرق واقعی می گذرد. بنابراین امتداد یک شاخص عمودی در لحظه عبور خورشید از نصف النهار اصلی یک محل، امتداد شرق- غرب جغرافیایی را مشخص می کند. خورشید دوبار در طول روز از سطح نصف النهار اصلی یک محل عبور می کند و لذا، هر روز در صبح یا بعد از ظهر می توان این روش را به کار گرفت. لحظه عبور خورشید از سطح نصف النهار اصلی یک محل را به کمک فرمول زیر می توان به دست آورد:

$$\cosh = \tan \delta \cot \varphi$$

با داشتن عرض جغرافیایی و زاویه میل خورشید محل، می توان زاویه ساعتی لحظه عبور خورشید از سطح نصف النهار اصلی را به دست آورد.

۹- روش استفاده از ساعت خورشیدی: تا قرن نوزدهم میلادی، ساعتهای خورشیدی معمولترین وسیله برای سنجش زمان بود که با پیشرفت تکنولوژی و با افزایش میزان دقت ساعتهای مکانیکی، از ارزش عملی ساعتهای خورشیدی کاسته شد اما هنوز در مواردی خاص به کار گرفته می شود. ساعتهای خورشیدی، وقت را براساس حرکت ظاهری روزانه خورشید نشان می دهند و لذا باید وقت خورشیدی حقیقی به وقت رسمی (استاندارد) تبدیل کرد.

ساعتهای خورشیدی، عمده دارای یک میله و یک دستک (شاخص^{۲۱}) می باشد که بر روی صفحه ای مدرج نصب شده اند و سایه شاخص، حکم عقربه^{۲۲} را دارد. ساعتهای خورشیدی را می توان به سه دسته کلی تقسیم کرد: اول، ساعتهای خورشیدی^{۲۳} ارتفاعی که براساس تغییر ارتفاع خورشید در طول روز کار می کنند. ارتفاع خورشید به میل خورشید و وقت روز، بستگی دارد و تغییرات طول سایه یک شیء به علت تغییرات ارتفاع خورشید است.

دوم، ساعت‌های خورشیدی^{۲۴} جهت‌ی که براساس زاویه سمت و زاویه ساعتی تنظیم شده است. در این دسته از ساعت‌ها برای تعیین وقت، از جهت سایه به جای طول سایه استفاده می‌شود. سوم، ساعت‌های خورشیدی ترکیبی^{۲۵} که براساس ارتفاع و نیز زاویه سمت و زاویه ساعتی خورشید کار می‌کند.*

قبله‌یابی و روش‌های تعیین قبله

قبله به معنای جهت، سمت و آنچه که پیش روی گیرنده است. در واقع، قبله، جهت و سمت کعبه است دانستن جهت قبله برای مسلمانان ضروری است. در طرح و بنای مساجد، برای انجام بسیاری از مراسم مذهبی و در معماری اسلامی، جهت قبله اهمیت خاصی دارد. از ماه رجب در سال دوم هجرت، جهت قبله مسلمانان از بیت المقدس به سوی مکه معظمه تغییر یافت. در اوایل ظهور اسلام، قبله‌یابی به دلیل نزدیکی مناطق جغرافیایی به مکه، راحت بود ولی بعد از گسترش اسلام در سرزمین‌های دور قبله‌یابی اهمیت خاصی یافت. امروزه به کمک قمرهای مصنوعی و عکسبرداری‌های هوایی، براحتی می‌توان وضعیت نقاط با فواصل زیاد را بر روی کره زمین، دقیقاً تعیین کرد.

مختصات جغرافیایی مکه: برای یافتن جهت قبله در هر نقطه، باید طول و عرض جغرافیایی کعبه، در دست باشد ولی به دلیل نبودن مختصات جغرافیایی کعبه، از مختصات جغرافیایی مکه استفاده می‌شود^{۲۶}:

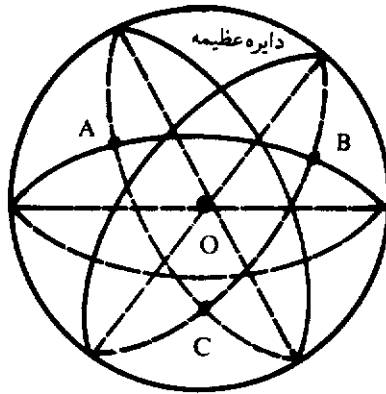
$$N \quad E$$

$$\varphi = 21^\circ \text{ و } 27^\circ \quad \lambda = 39^\circ \text{ و } 45^\circ$$

شهر مکه در غرب شبه جزیره عربستان قرار دارد که از شمال به مدینه، از شرق به طائف، از جنوب به عسیر و از طرف غرب به جده در ساحل دریای سرخ، محدود است. ارتفاع مکه از سطح دریا، حدود ۳۳ متر و بین دو رشته کوه محصور است. برای تعیین قبله، باید زاویه انحراف قبله هر محل را نسبت به امتداد شمال و جنوب حقیقی محل به دست آورد، برای این کار روش‌های متعددی وجود دارد که مهمترین آنها عبارتند از:

24- Directional dials 25- Combined dials

۵: لازم به تذکر است که در بعضی از کتب برای جهت‌یابی روش‌های دیگری از قبیل، جهت‌یابی از طریق استفاده از ساعت و نیز از طریق آفتاب زدگی تنه بعضی از درختان (در نیمکره شمالی، جهت جنوب) و... ذکر شده است ولی به دلیل قدیمی بودن و نیز ضعیف بودن آنها از نظر علمی، از توضیح آنها خودداری شده است.



شکل شماره ۸- یک مثلث کروی

الف: استفاده از مثلثات کروی: کره‌ای را به شعاع واحد طول در نظر می‌گیریم و بر روی آن سه نقطه (A، B و C) را انتخاب می‌کنیم. بر هر دو نقطه از این سه نقطه و نیز مرکز کره (O)، سه دایره عظیمه عبور می‌کند و سه قوس AB، AC و BC بر روی کره به دست می‌آید. سطح محصور بین این سه قوس، یک مثلث کروی است (شکل شماره ۸). هر مثلث کروی مانند مثلث مسطح دارای سه ضلع و سه زاویه است. اگر از نقطه (A) دو خط مماس بر دو قوس (AB و AC) رسم کنیم، زاویه (A) به دست می‌آید، از طرفی چون دو خط مماس در نقطه (A) بر شعاع (OA) عمودند و (OA) فصل مشترک دو دایره عظیمه (OAB و OAC) می‌باشد، لذا زاویه (A) را می‌توان زاویه بین دو صفحه (OAB و OAC) دانست. در نقاط (B و C) در صورتی که طبق آنچه برای نقطه (A) گفته شد، عمل شود، دو زاویه دیگر به دست می‌آید که زوایای (B و C) خواهند بود. اگر مقدار قوسهای (BC، AC و AB) به ترتیب (a، b، c) باشند آنها اضلاع مثلث کروی (ABC) هستند. (شکل شماره ۹)

- ۱- خواص مثلث کروی: ۱- اندازه هر زاویه یک مثلث کروی از 180° (2π) کمتر است.
- ۲- مجموع سه زاویه مثلث کروی از 180° بیشتر و از 270° کمتر است. ۳- مجموع اندازه‌های هر دو ضلع یک مثلث کروی از اندازه ضلع سوم بیشتر است. ۴- اگر مجموع دو ضلع یک مثلث کروی 180° باشد، مجموع زوایای روبرو نیز 180° می‌باشد. ۵- در یک مثلث کروی، زاویه کوچکتر، روبروی ضلع کوچکتر قرار دارد و برعکس.



پروشکاه علوم انسانی و مطالعات فرہنگی
پرتال جامع علوم انسانی



پروشکاه علوم انسانی و مطالعات فرہنگی
پرتال جامع علوم انسانی



پروشکاه علوم انسانی و مطالعات فرهنگی
پرتال جامع علوم انسانی



پروشکاه علوم انسانی و مطالعات فرہنگی
پرتال جامع علوم انسانی



پروشکاه علوم انسانی و مطالعات فرہنگی
پرتال جامع علوم انسانی



پروشکاه علوم انسانی و مطالعات فرہنگی
پرتال جامع علوم انسانی



پروشکاه علوم انسانی و مطالعات فرہنگی
پرتال جامع علوم انسانی



پروشکاه علوم انسانی و مطالعات فرہنگی
پرتال جامع علوم انسانی



پروشکاه علوم انسانی و مطالعات فرہنگی
پرتال جامع علوم انسانی